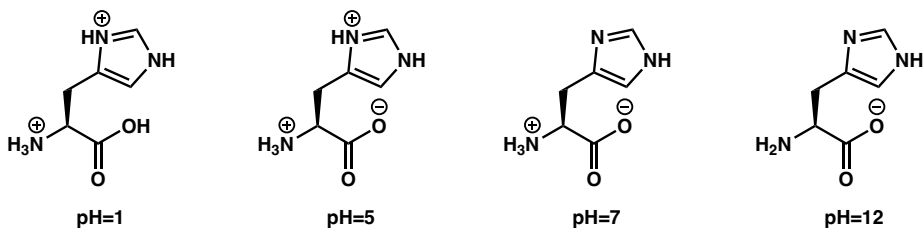


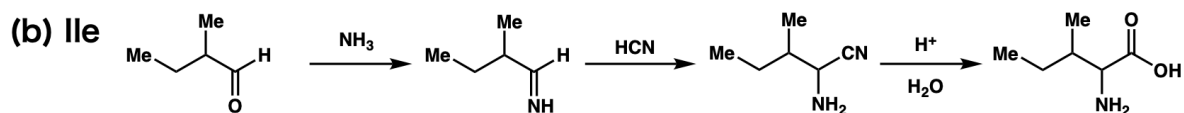
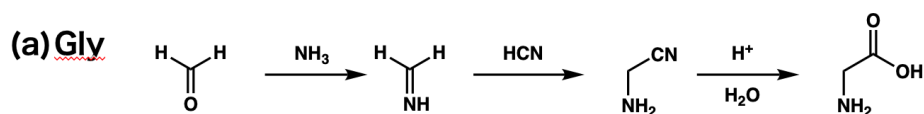
有機化学 IV・宿題演習-12

問題 1 L-ヒスチジンが pH = 1, 5, 7, 12 の各水溶液中でとる構造を書きなさい。



問題 2 どのように Strecker 合成を利用すれば、次のアミノ酸をラセミ体で得ることができるか示せ。

(a) Gly, (b) Ile, (c) Ala



ジアステレオマーの混合物であることに注意

