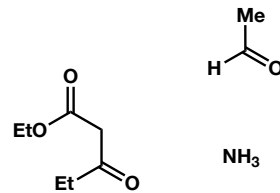
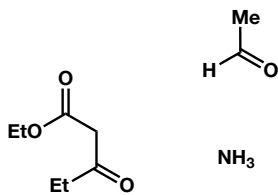
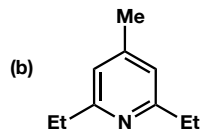
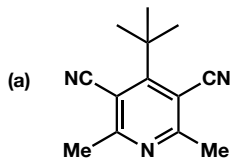


有機化学 IV・宿題演習-11

問1 次のピリジン誘導体をHantzsch ピリジン合成 によって合成するためには、どのような出発物を用いれば良いか



教科書 p1509参照

問2 次の各反応の反応について予想される生成物とその反応機構を書け。

