

有機化学 IV・宿題演習-7,8

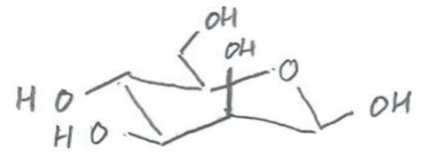
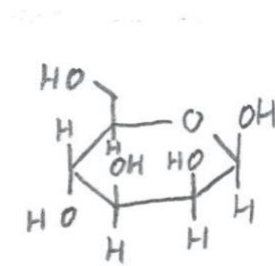
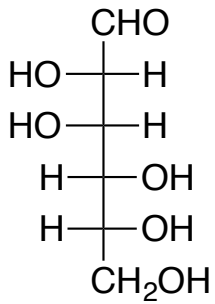
問題 1 以下のD-(+)-マンノースとD-(-)-グルコースの Fischer 投影式から、ピラノース型の Haworth 投影式といす型立体配座をそれぞれ書きなさい

(Fischer 投影式)

(Haworth 投影式)

(いす型立体配座)

D-(+)-マンノース



(Fischer 投影式)

(Haworth 投影式)

(いす型立体配座)

D-(-)-グルコース

