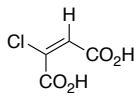


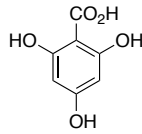
有機化学 III・宿題演習-9 (7/4, 2022)

問1 次の化合物の名称を示せ.

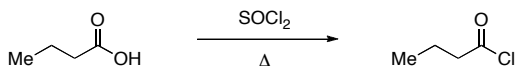
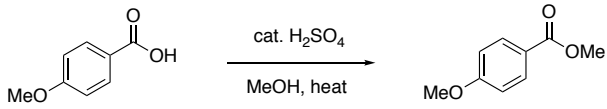
I)



II)



問2 以下の反応の反応機構を書きなさい.



問3 以下の反応の反応機構と生成物と副生成物を書きなさい。

