

有機化学 III・宿題演習-9 (7/4, 2022)

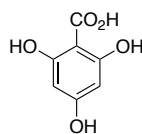
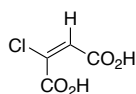
問1 次の化合物の名称を示せ。

I) (E)-2-Chloro-2-butenedioic acid

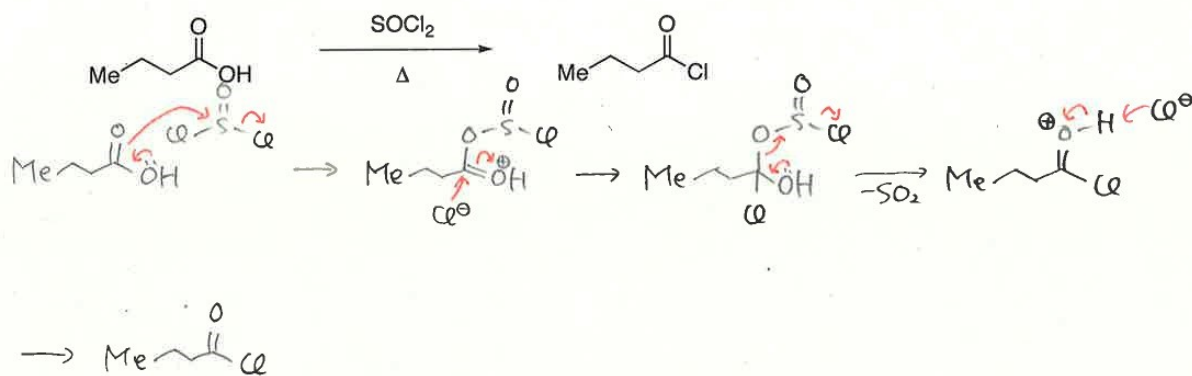
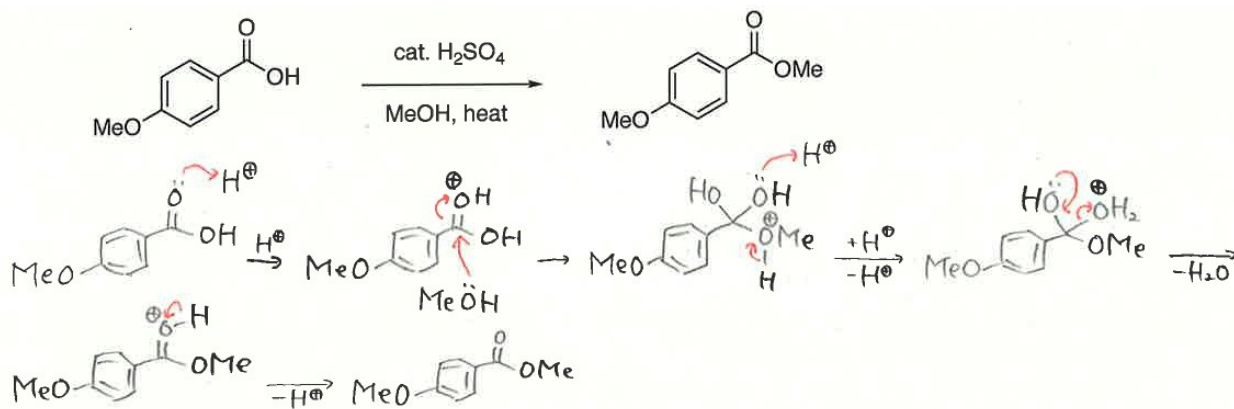
II) 2,4,6-Trihydroxybenzoic acid

(E)-2-塩化-2-ブテン二酸 (塩化はクロロともいう)

2,4,6-トリヒドロキシ安息香酸



問2 以下の反応の反応機構を書きなさい。



問3 以下の反応の反応機構と生成物と副生成物を書きなさい。

