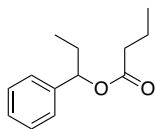


有機化学 III・宿題演習-4 (6/16, 2022)

問I 次の化合物の名称又は構造を示せ。

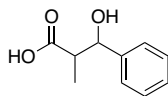
I) 1-Phenylpropyl butyrate

酪酸 1-フェニルプロピル (ブタン酸 1-フェニルプロピル)



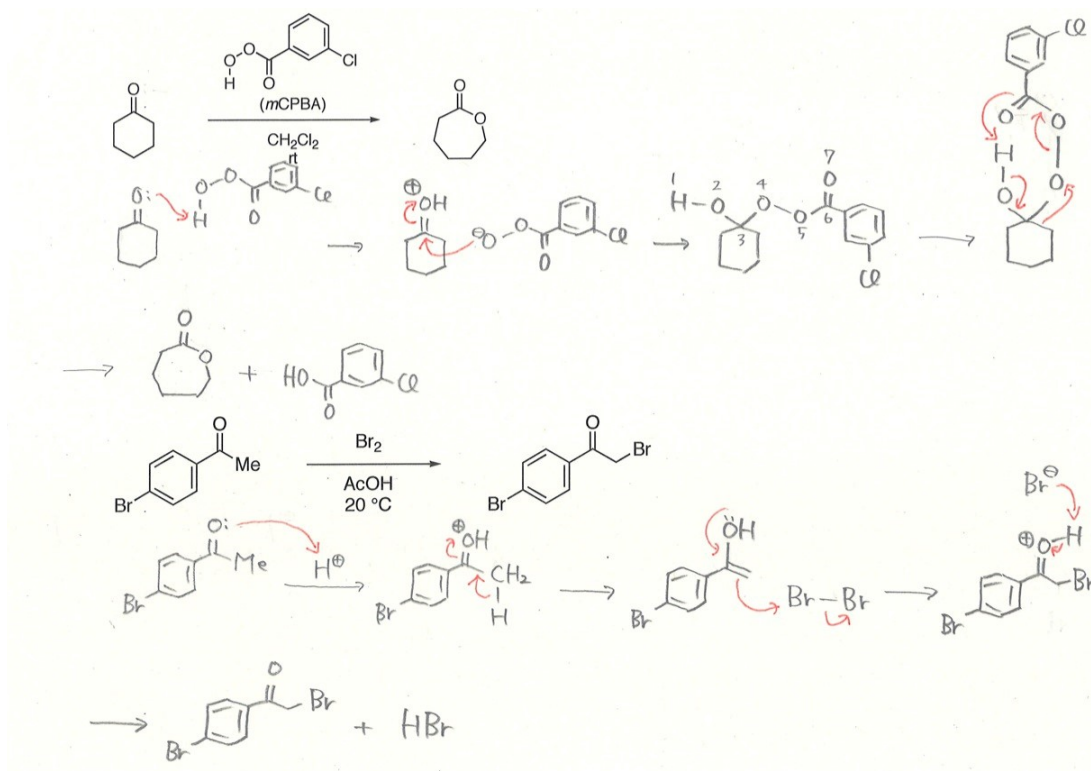
II) 3-Hydroxy-2-methyl-3-phenylpropanoic acid

3-ヒドロキシ-2-メチル-3-フェニルプロピオン酸



今回の問1は、19章の内容でした。

問2 以下の反応の反応機構を書きなさい。



問3 以下の合成経路を記せ

