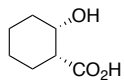


有機化学 III・宿題演習-10,11 (7/7,7/11 2022)

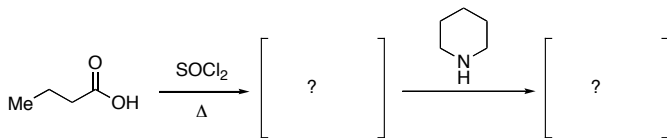
問1 次の化合物の名称を示せ.

I)

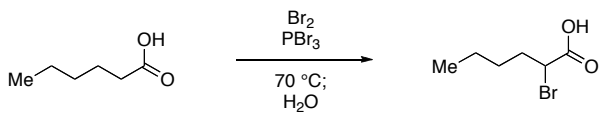


II) *trans*-2-formylcyclohexane carboxylic acid

問2 以下の反応の反応機構と生成物を書きなさい。



問3 以下の反応の反応機構を書きなさい。



問4 以下の反応 (A, B) に必要な反応剤を書きなさい。

