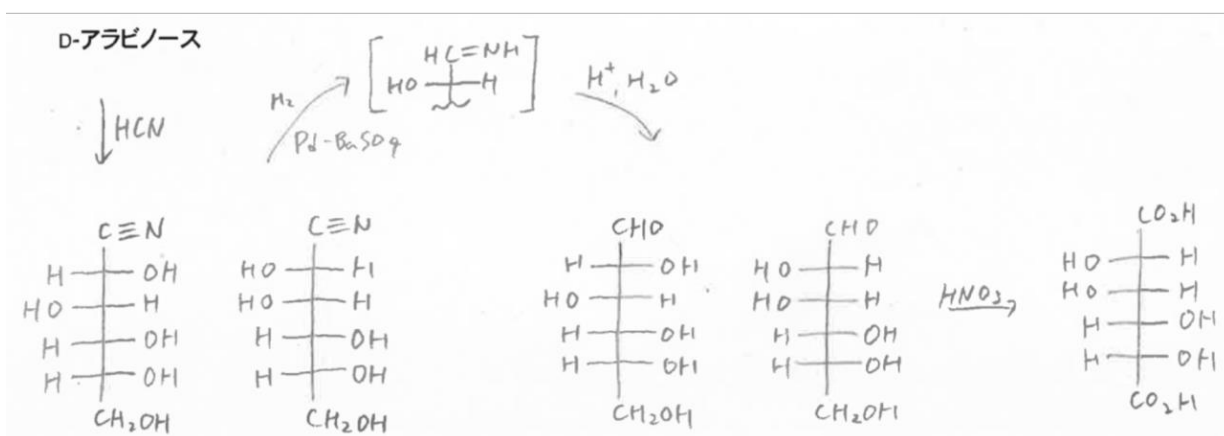
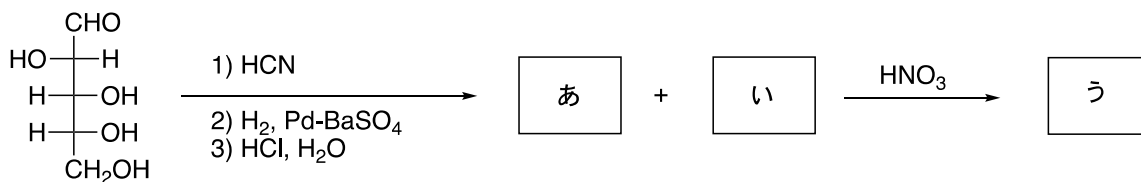


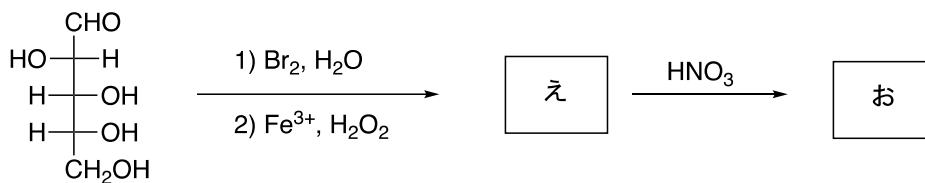
# 有機化学 IV・宿題演習-10

クラス	学籍番号	氏名
-----	------	----

問題 1. 以下の反応の生成物[あ]~[う]の構造を書きなさい。化合物[う]は、光学的に不活性である。



問題 2. 以下の反応の生成物[え]~[お]の構造を書きなさい。化合物[お]は、光学的に不活性である。



D-アラビノース

