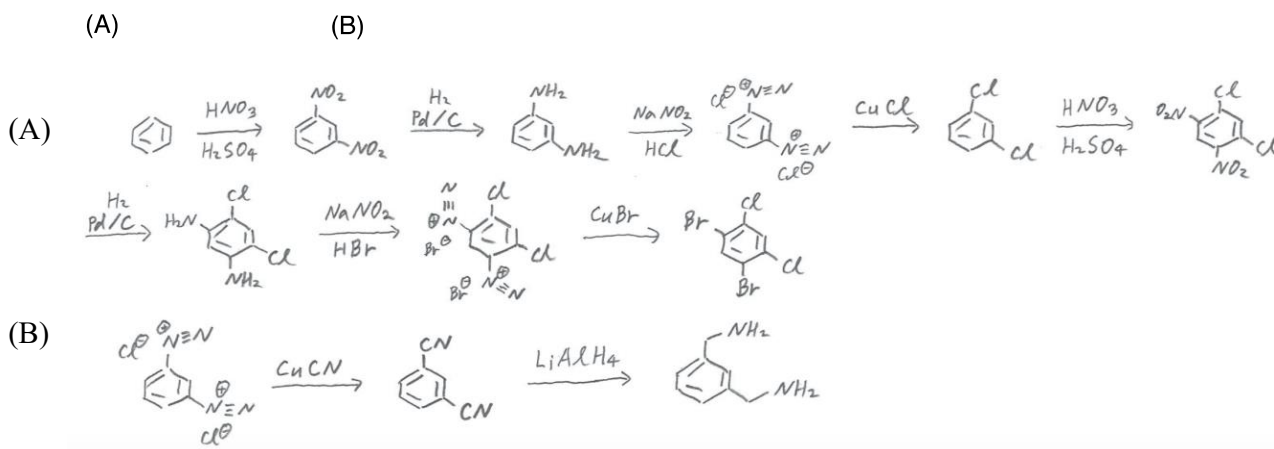
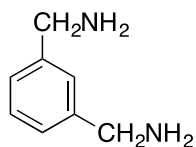
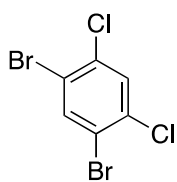


有機化学 IV ・ 宿題演習-3

クラス	学籍番号	氏名
-----	------	----

問題1 ベンゼンから、(A) および(B) の合成ルートを提案しなさい。



問題2 以下の反応 (A)(B) の生成物と反応機構を書きなさい。

