

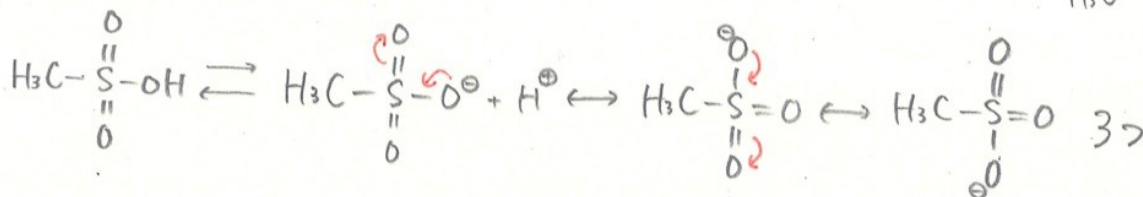
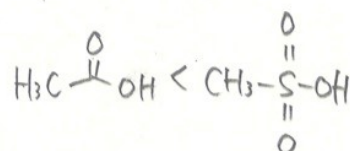
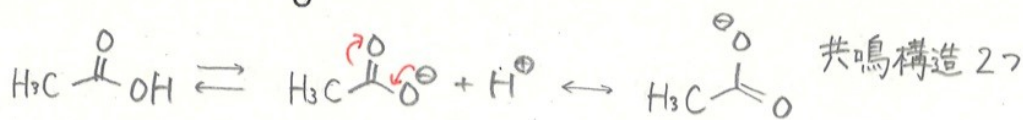
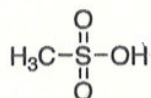
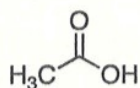
有機化学 III・宿題演習-7 (6/24, 2021)

クラス

学籍番号

氏名

問題1 以下のどちらの化合物がより強い酸であるか、その理由も書きなさい。



問題2 以下の変換反応に必要な試薬を提案し、反応機構を書きなさい。

