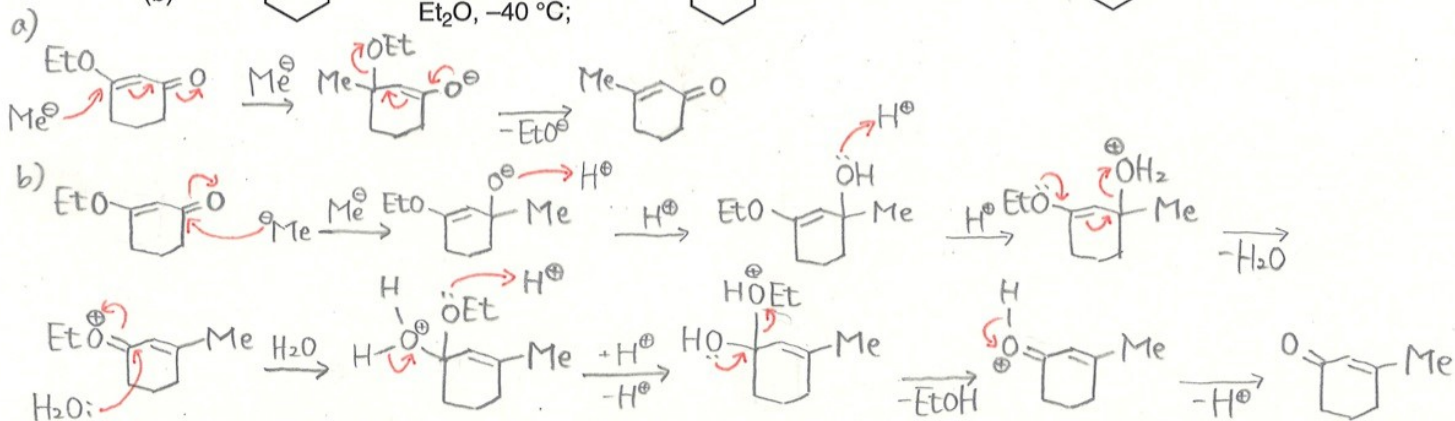
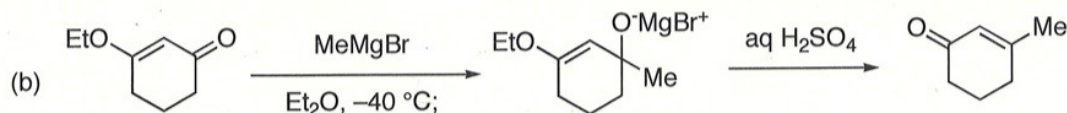
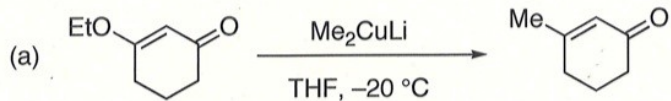


有機化学 III・宿題演習-6 (6/21, 2021)

クラス	学籍番号	氏名
-----	------	----

問題1 以下の反応 (a) (b) の反応機構を書きなさい。



問題2 以下の合成ルートに適切な化合物あるいは試薬と Step 2 の反応機構を書きなさい。

