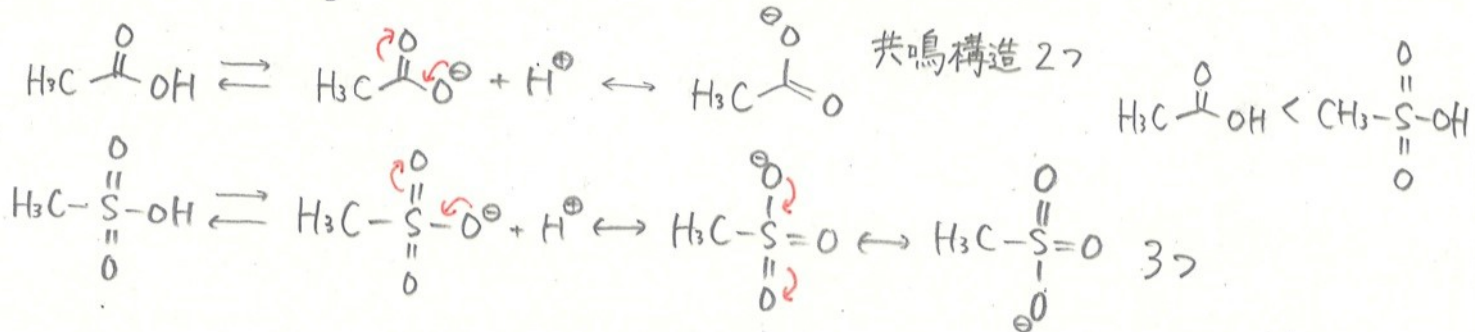
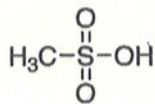
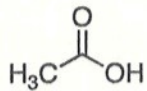


有機化学 III・宿題演習-7 (7/2 2020)

クラス	学籍番号	氏名
-----	------	----

問題1 以下のどちらの化合物がより強い酸であるか、その理由も書きなさい。



問題2 以下の変換反応に必要な試薬を提案し、反応機構を書きなさい。

