

有機化学 III・宿題演習-11 (7/10 2017)

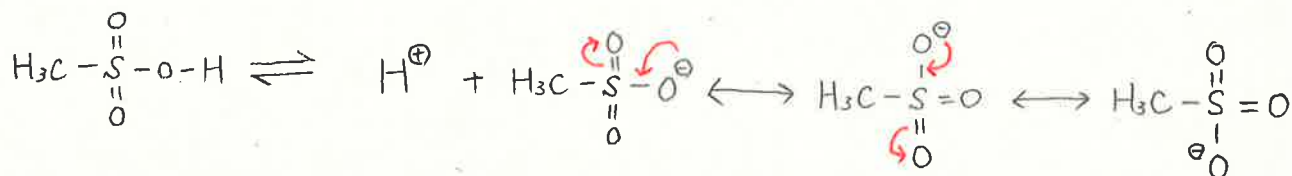
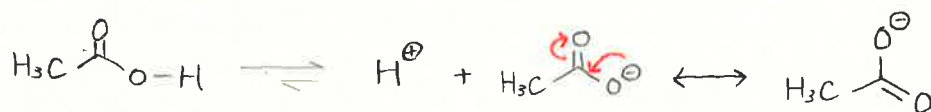
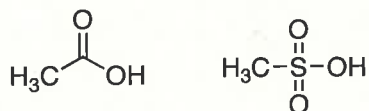
クラス

学籍番号

氏名

問題 1

以下のどちらの化合物がより強い酸であるか、その理由も書きなさい。



問題 2

以下の変換反応に必要な試薬を提案し、反応機構を書きなさい。

